


Датум: _____

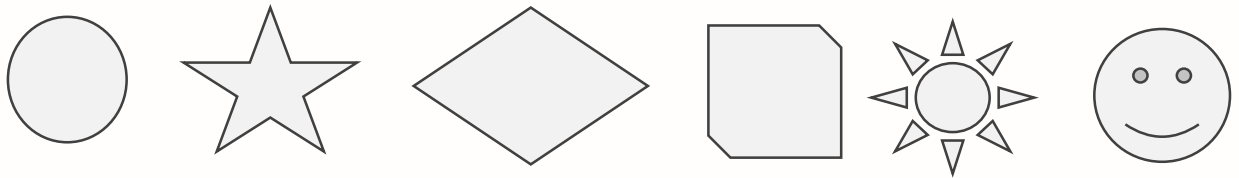
Име и презиме: _____

ОСНА СИМЕТРИЈА

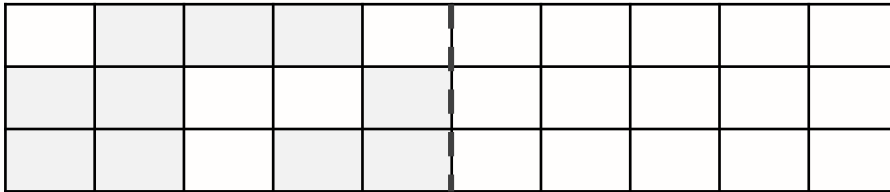
1. Заокружи ги фигурите што НЕ се симетрични.



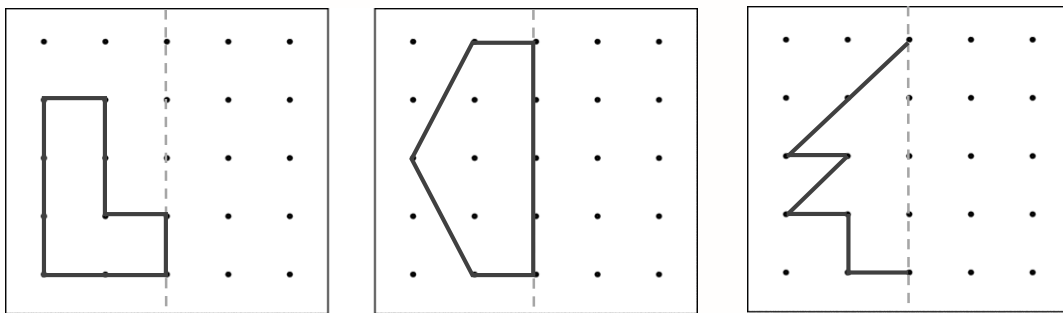
2. Нацртај по една оска на симетрија на секоја од дадените фигури.



3. Обој ги квадратчињата така што ќе добиеш симетрична фигура!



4. Доцртај ги фигурите така што да бидат симетрични!



Очекувани резултати:

Препознава симетрични форми	да	не	делумно
Црта оска на симетрија	да	не	делумно
Црта симетрични форми	да	не	делумно

Наставник _____

Родител _____