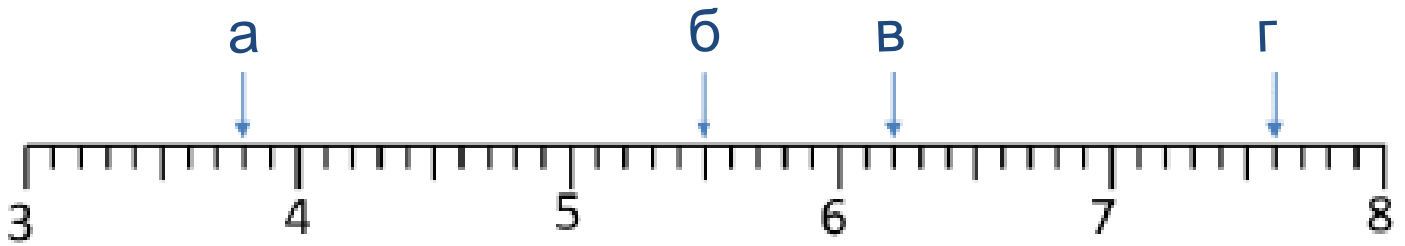
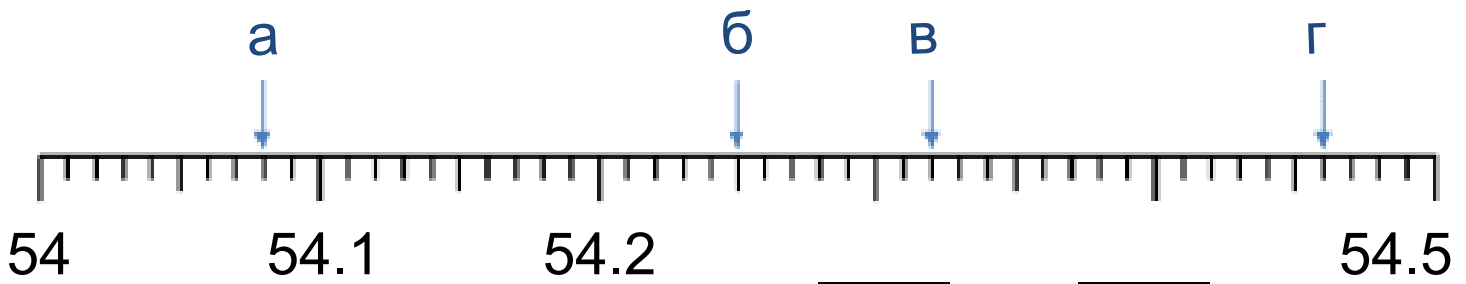




Децимални броеви- заокружување



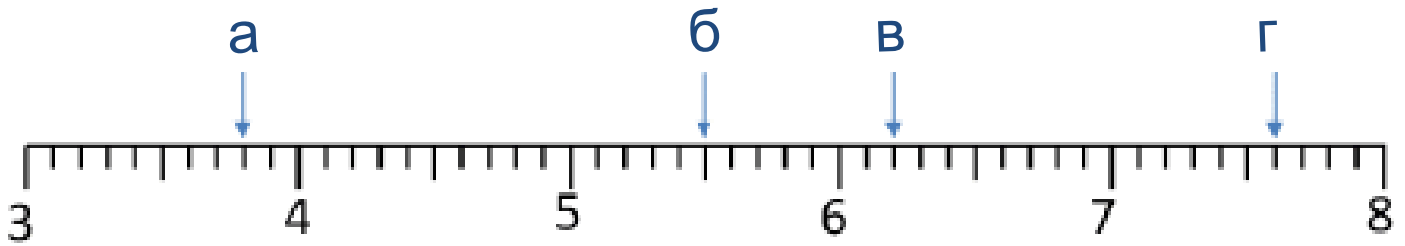
- а) На бројот _____ најблизок цел број е бројот _____.
- б) На бројот _____ најблизок цел број е бројот _____.
- в) На бројот _____ најблизок цел број е бројот _____.
- г) На бројот _____ најблизок цел број е бројот _____.



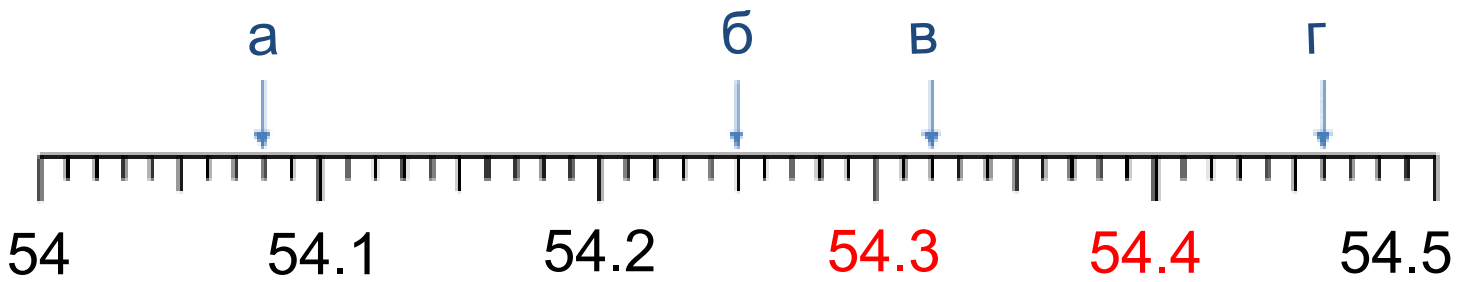
- а) Бројот _____ заокружен на најблиската десетинка е бројот _____.
- б) Бројот _____ заокружен на најблиската десетинка е бројот _____.
- в) Бројот _____ заокружен на најблиската десетинка е бројот _____.
- г) Бројот _____ заокружен на најблиската десетинка е бројот _____.



Децимални броеви- заокружување



- а) На бројот 3.8 најблизок цел број е бројот 4.
- б) На бројот 5.5 најблизок цел број е бројот 6.
- в) На бројот 6.2 најблизок цел број е бројот 6.
- г) На бројот 7.6 најблизок цел број е бројот 8.



- а) Бројот 54.08 заокружен на најблиската десетинка е бројот 54.1.
- б) Бројот 54.25 заокружен на најблиската десетинка е бројот 54.3.
- в) Бројот 54.32 заокружен на најблиската десетинка е бројот 54.3.
- г) Бројот 54.46 заокружен на најблиската десетинка е бројот 54.5.