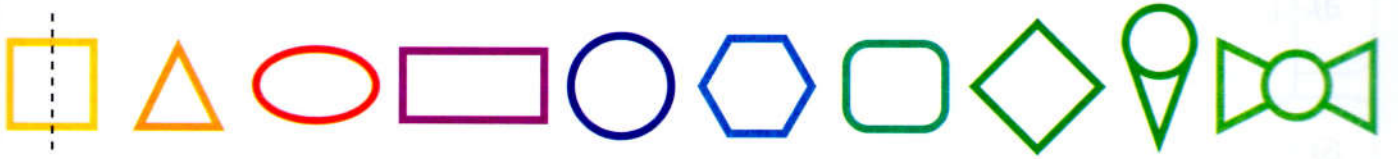


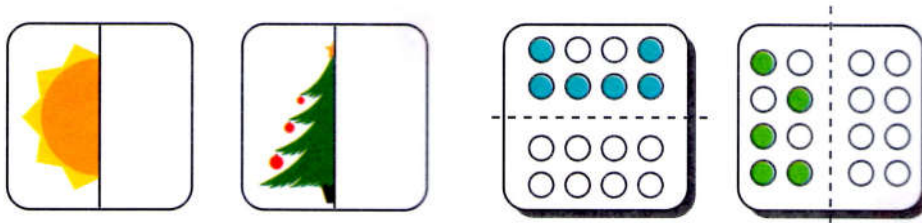
Име на ученик _____

СИМЕТРИЈА

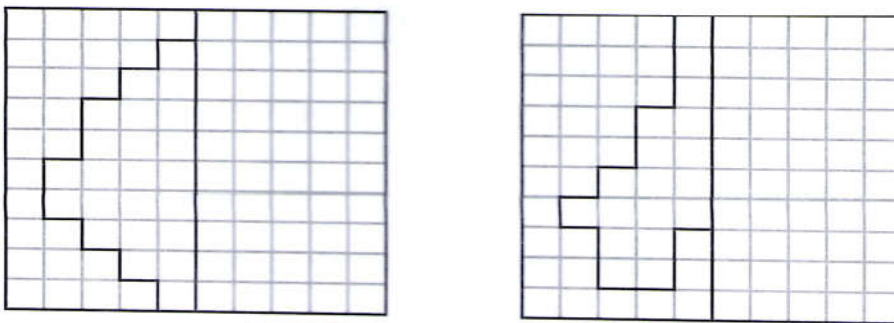
1. Нацртај оска на симетрија:



2. Доцртај ја другата половина од секој цртеж.



3. Доцртај и обој ја половината што недостига.



4. Погледни ги цртежите. Обој ги оние што имаат оска на симетрија :

