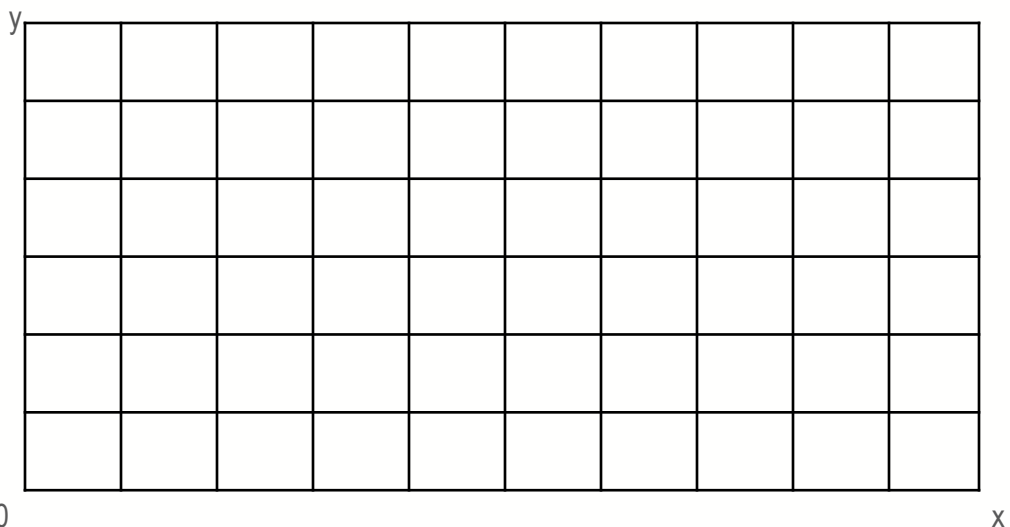
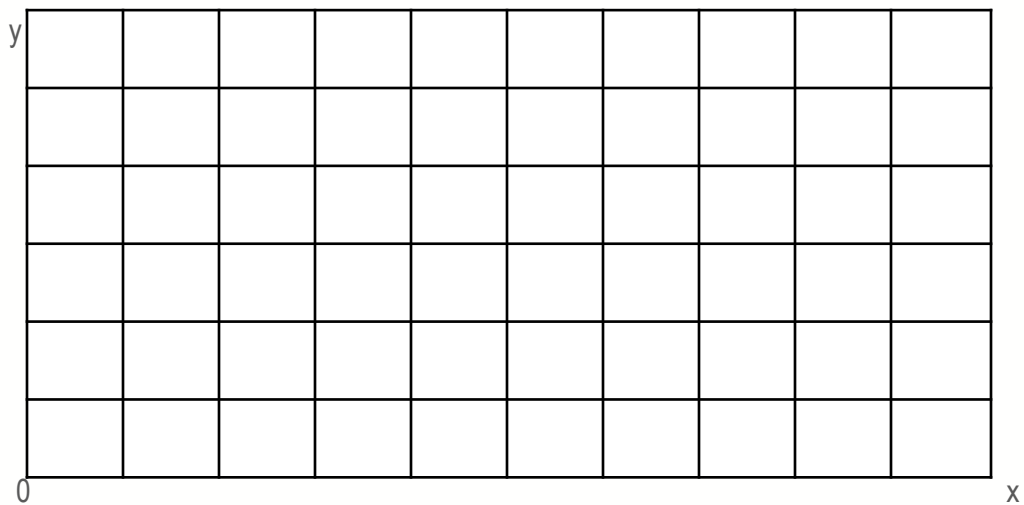
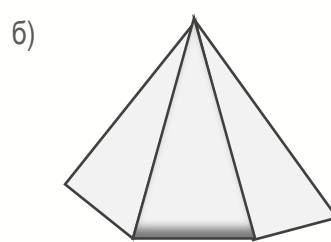
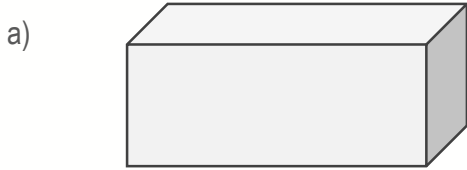


Датум: \_\_\_\_\_

Име и презиме: \_\_\_\_\_

## Читање и внесување координати на 3Д форми

1. Запиши ги и обележи ги координатите на дадените геометриски форми во координатна мрежа.



- Одреди го бројот на темиња на квадарот и пирамидата.
- Колкав е бројот на рабови на квадарот и на пирамидата?
- Колку ѕидови има квадарот?
- Колку ѕидови има пирамидата?